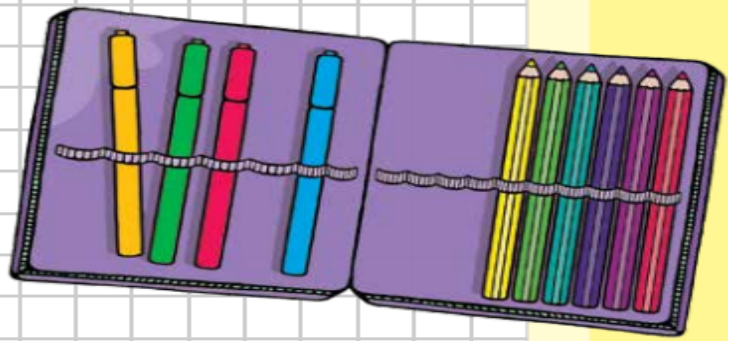


1) COMENZAMOS CON SITUACIONES PROBLEMÁTICAS

**Problema 1**

Inés guardó en su cartuchera  
6 lápices y 4 marcadores.  
¿Cuántos útiles guardó en total?



**Problema 2**


En la caja de objetos perdidos  
había 5 útiles.  
Martina encontró 6 más.  
¿Cuántos objetos hay ahora?



\*2) JUNTOS PENSAMOS UN NUEVO EPISODIO PARA EL FINAL DEL CUENTO EL NABO GIGANTE.  
AGREGAMOS POSIBLES PERSONAJES PARA AYUDAR A ARRANCAR EL NABO.  
ESCRIBIMOS UNA LISTA DE POSIBLES ANIMALES QUE PUEDEN AYUDAR A ARRANCAR EL NABO.

3)

EN LA CAJA DE TIJERAS  
DE 1.º, HABÍA 5. JUANA  
GUARDÓ 3 TIJERAS MÁS.  
¿CUÁNTAS TIJERAS HAY  
AHORA EN LA CAJA?



¿Cuántos lápices hay en  
este portalápices?



4) COMPLETAMOS NUESTRA AGENDA DE LECTURA. COPIAMOS LOS TÍTULOS DE LOS CUENTOS LEÍDOS.

AGENDA DE LECTURA


¿A QUÉ SABE LA LUNA?


CUELLO DURO

EL NABO GIGANTE

LA SELVA LOCA

5) LEEMOS EL CUENTO LA SELVA LOCA

<https://cuentosposteriores.files.wordpress.com/2020/11/la-selva-loca.pdf>















PODÉS MIRARLO EN EL SIGUIENTE VIDEO.

<https://www.youtube.com/watch?v=SsESJShxk-4>

6) TRABAJAMOS CON EL LIBRO DE MATEMÁTICA . PUNTO 2 PÁGINA 10 Y PÁGINA 11

## JUGAMOS CON 2 DADOS

TIRÁ LOS DADOS, DIBUJÁ LOS PUNTITOS EN CADA DADO Y ANOTÁ EL RESULTADO QUE OBTENÉS EN CADA PARTIDA.

ATRAPÁ CON AZUL EL RESULTADO MÁS CHIQUITO Y CON ROJO EL RESULTADO MÁS GRANDE.

MARTINA JUGÓ CON DADOS CON NÚMEROS Y DICE QUE OBTUVO 10 PUNTOS ¿ES VERDAD? ¿ESTÁS DE ACUERDO CON ELLA? ¿PORQUÉ?




$$\boxed{3} \quad \boxed{3} = 10$$

## NÚMEROS Y PUNTAJES

**1** MANUEL, TOMÁS Y PEDRO JUEGAN CON DOS DADOS, EL QUE SACA MÁS PUNTOS GANA.

**A** COMPLETÁ LA TABLA CON EL PUNTAJE DE CADA UNO.

**B** ¿QUIÉN GANÓ ESTA VUELTA?

JUGADOR	DADOS QUE SACÓ	PUNTAJE
MANUEL		
TOMÁS		
PEDRO		

COMPLETAMOS LA TIRA DE NÚMEROS

1		3							10	11				
---	--	---	--	--	--	--	--	--	----	----	--	--	--	--